









Name _____

Estimate and Count

Estimate and count the number of shepes.

 <p>Estimate <input type="text" value="20"/> Count <input type="text" value="21"/></p>	 <p>Estimate <input type="text" value="50"/> Count <input type="text" value="48"/></p>
 <p>Estimate <input type="text" value="30"/> Count <input type="text" value="32"/></p>	 <p>Estimate <input type="text" value="20"/> Count <input type="text" value="16"/></p>
 <p>Estimate <input type="text" value="20"/> Count <input type="text" value="24"/></p>	 <p>Estimate <input type="text" value="30"/> Count <input type="text" value="27"/></p>
 <p>Estimate <input type="text" value="20"/> Count <input type="text" value="15"/></p>	 <p>Estimate <input type="text" value="40"/> Count <input type="text" value="35"/></p>