











Name _____

15 TIMES TABLE

Choose the correct answer.

 $15 \times 5 =$ <input type="text" value="75"/> <input type="text" value="45"/>	 $15 \times 2 =$ <input type="text" value="30"/> <input type="text" value="60"/>
 $15 \times 1 =$ <input type="text" value="51"/> <input type="text" value="15"/>	 $15 \times 9 =$ <input type="text" value="135"/> <input type="text" value="105"/>
 $15 \times 10 =$ <input type="text" value="150"/> <input type="text" value="105"/>	 $15 \times 7 =$ <input type="text" value="105"/> <input type="text" value="30"/>
 $15 \times 6 =$ <input type="text" value="90"/> <input type="text" value="75"/>	 $15 \times 4 =$ <input type="text" value="30"/> <input type="text" value="60"/>
 $15 \times 3 =$ <input type="text" value="15"/> <input type="text" value="45"/>	 $15 \times 8 =$ <input type="text" value="105"/> <input type="text" value="120"/>