











Name _____

13 TIMES TABLE

Choose the correct answer.

 $13 \times 5 =$ <input type="text" value="65"/> <input type="text" value="45"/>	 $13 \times 2 =$ <input type="text" value="26"/> <input type="text" value="39"/>
 $13 \times 10 =$ <input type="text" value="91"/> <input type="text" value="130"/>	 $13 \times 9 =$ <input type="text" value="117"/> <input type="text" value="81"/>
 $13 \times 1 =$ <input type="text" value="13"/> <input type="text" value="18"/>	 $13 \times 7 =$ <input type="text" value="26"/> <input type="text" value="91"/>
 $13 \times 6 =$ <input type="text" value="54"/> <input type="text" value="78"/>	 $13 \times 4 =$ <input type="text" value="65"/> <input type="text" value="52"/>
 $13 \times 3 =$ <input type="text" value="39"/> <input type="text" value="13"/>	 $13 \times 8 =$ <input type="text" value="104"/> <input type="text" value="130"/>