











Name _____

9 TIMES TABLE

Choose the correct answer.

 $9 \times 5 =$ <input type="text" value="40"/> <input checked="" type="text" value="45"/>	 $9 \times 2 =$ <input type="text" value="16"/> <input checked="" type="text" value="18"/>
 $9 \times 10 =$ <input type="text" value="80"/> <input checked="" type="text" value="90"/>	 $9 \times 9 =$ <input type="text" value="63"/> <input checked="" type="text" value="81"/>
 $9 \times 1 =$ <input checked="" type="text" value="9"/> <input type="text" value="18"/>	 $9 \times 7 =$ <input type="text" value="56"/> <input checked="" type="text" value="63"/>
 $9 \times 6 =$ <input checked="" type="text" value="54"/> <input type="text" value="45"/>	 $9 \times 4 =$ <input checked="" type="text" value="36"/> <input type="text" value="32"/>
 $9 \times 3 =$ <input type="text" value="24"/> <input checked="" type="text" value="27"/>	 $9 \times 8 =$ <input checked="" type="text" value="72"/> <input type="text" value="64"/>