











Name _____

4 TIMES TABLE

Choose the correct answer.

 $4 \times 5 =$ <input type="text" value="20"/> <input type="text" value="16"/>	 $4 \times 7 =$ <input type="text" value="12"/> <input type="text" value="28"/>
 $4 \times 1 =$ <input type="text" value="32"/> <input type="text" value="4"/>	 $4 \times 10 =$ <input type="text" value="36"/> <input type="text" value="40"/>
 $4 \times 9 =$ <input type="text" value="16"/> <input type="text" value="36"/>	 $4 \times 2 =$ <input type="text" value="4"/> <input type="text" value="8"/>
 $4 \times 4 =$ <input type="text" value="32"/> <input type="text" value="16"/>	 $4 \times 6 =$ <input type="text" value="24"/> <input type="text" value="12"/>
 $4 \times 3 =$ <input type="text" value="8"/> <input type="text" value="12"/>	 $4 \times 8 =$ <input type="text" value="4"/> <input type="text" value="32"/>