











Name _____

3 TIMES TABLE

Choose the correct answer.

 $3 \times 5 =$ <input type="text" value="9"/> <input checked="" type="text" value="15"/>	 $3 \times 7 =$ <input checked="" type="text" value="21"/> <input type="text" value="24"/>
 $3 \times 1 =$ <input type="text" value="6"/> <input checked="" type="text" value="3"/>	 $3 \times 10 =$ <input type="text" value="18"/> <input checked="" type="text" value="30"/>
 $3 \times 9 =$ <input checked="" type="text" value="27"/> <input type="text" value="18"/>	 $3 \times 2 =$ <input type="text" value="4"/> <input checked="" type="text" value="6"/>
 $3 \times 4 =$ <input type="text" value="6"/> <input checked="" type="text" value="12"/>	 $3 \times 6 =$ <input checked="" type="text" value="18"/> <input type="text" value="12"/>
 $3 \times 3 =$ <input type="text" value="6"/> <input checked="" type="text" value="9"/>	 $3 \times 8 =$ <input type="text" value="16"/> <input checked="" type="text" value="24"/>