











Name _____

7 TIMES TABLE

Choose the correct answer.

 $7 \times 6 =$ <input type="text" value="36"/> <input checked="" type="text" value="42"/>	 $7 \times 2 =$ <input type="text" value="12"/> <input checked="" type="text" value="14"/>
 $7 \times 10 =$ <input type="text" value="60"/> <input checked="" type="text" value="70"/>	 $7 \times 9 =$ <input checked="" type="text" value="63"/> <input type="text" value="54"/>
 $7 \times 1 =$ <input type="text" value="70"/> <input checked="" type="text" value="7"/>	 $7 \times 7 =$ <input type="text" value="18"/> <input checked="" type="text" value="49"/>
 $7 \times 5 =$ <input checked="" type="text" value="35"/> <input type="text" value="45"/>	 $7 \times 4 =$ <input checked="" type="text" value="28"/> <input type="text" value="24"/>
 $7 \times 3 =$ <input checked="" type="text" value="21"/> <input type="text" value="18"/>	 $7 \times 8 =$ <input checked="" type="text" value="56"/> <input type="text" value="48"/>