











Name _____

6 TIMES TABLE

Choose the correct answer.

 $6 \times 6 =$ <input type="text" value="36"/> <input type="text" value="30"/>	 $6 \times 2 =$ <input type="text" value="12"/> <input type="text" value="10"/>
 $6 \times 10 =$ <input type="text" value="60"/> <input type="text" value="50"/>	 $6 \times 9 =$ <input type="text" value="45"/> <input type="text" value="54"/>
 $6 \times 7 =$ <input type="text" value="35"/> <input type="text" value="42"/>	 $6 \times 1 =$ <input type="text" value="18"/> <input type="text" value="6"/>
 $6 \times 5 =$ <input type="text" value="30"/> <input type="text" value="45"/>	 $6 \times 4 =$ <input type="text" value="50"/> <input type="text" value="24"/>
 $6 \times 3 =$ <input type="text" value="15"/> <input type="text" value="18"/>	 $6 \times 8 =$ <input type="text" value="40"/> <input type="text" value="48"/>