











Name \_\_\_\_\_

# 5 TIMES TABLE

Choose the correct answer.

 $5 \times 6 =$ <input type="text" value="20"/> <input checked="" type="text" value="30"/>	 $5 \times 2 =$ <input type="text" value="15"/> <input checked="" type="text" value="10"/>
 $5 \times 10 =$ <input type="text" value="35"/> <input checked="" type="text" value="50"/>	 $5 \times 9 =$ <input checked="" type="text" value="45"/> <input type="text" value="40"/>
 $5 \times 7 =$ <input checked="" type="text" value="35"/> <input type="text" value="10"/>	 $5 \times 1 =$ <input type="text" value="15"/> <input checked="" type="text" value="5"/>
 $5 \times 5 =$ <input checked="" type="text" value="25"/> <input type="text" value="45"/>	 $5 \times 4 =$ <input type="text" value="50"/> <input checked="" type="text" value="20"/>
 $5 \times 3 =$ <input checked="" type="text" value="15"/> <input type="text" value="5"/>	 $5 \times 8 =$ <input checked="" type="text" value="40"/> <input type="text" value="30"/>